

**Fichas de trabajo:
Convocatoria
extraordinaria para
la recuperación de
materia pendiente
2º ESO**

Curso 2016-2017

NOTA: Deben presentarse todas las fichas trabajadas. Se valorará que las fichas estén correctas y completas así como la limpieza y buena presentación.

Las fichas se entregarán al profesor al comenzar el examen de recuperación

La fecha se comunicará al alumno-a en plazo y tiempo suficiente.

GEOGRAFÍA E HISTORIA 2º ESO.

Fichas de trabajo. Convocatoria extraordinaria para la recuperación de materia pendiente 2º ESO

Ejercicio nº 1.-

Punto 1 del tema (pag-16 del libro nuevo)

Desarrolla el siguiente punto del tema: "El Imperio Bizantino". Para que te sirva de ayuda toma como referencia estas preguntas:

- ¿De dónde proviene el nombre de imperio bizantino? ¿Cuál era su capital?
- ¿Cuándo y con quien alcanzó el imperio bizantino su época de mayor esplendor? Explícalo.
- ¿Cómo se gobernaba el imperio?
- ¿Qué hechos pusieron fin al imperio bizantino?

Ejercicio nº 2.-

Define y explica los siguientes términos:

a) Mosaico

b) Cisma de Oriente:

c) Iconos:

d) Cruz griega:

Ejercicio nº 3.-

¿Cuáles son los preceptos básicos del islam?

Ejercicio nº 4.-

Responde a las siguientes preguntas:

- ¿Quién fue Mahoma?

- ¿Qué es la hégira? ¿Y la yihad?

Ejercicio nº 5.-

La Expansión del Islam. Etapas. **(Pagina-24 del libro nuevo)**

- ¿Quiénes gobernaron el imperio islámico tras la muerte de Mahoma?

- ¿Qué familia ejerció el poder a partir del año 661? ¿Qué familia le sucedió desde el 750? ¿Cómo accedió esta última al poder?

Ejercicio nº 6.-

El gobierno del territorio-Principales autoridades del califato (del imperio musulmán).



Ejercicio nº7.-

Ordena cronológicamente estos acontecimientos.

- a) Conquista del centro y norte de la península Itálica por parte de los lombardos.
- b) Conquista turca de Constantinopla.
- c) Desaparición del imperio romano de Occidente.
- d) Cisma de Oriente.
- e) Reinado de Justiniano.

Ejercicio nº 8.- (1 Pts.)

- A partir de las imágenes, señala las características fundamentales del arte islámico.



Ejercicio nº 9

El Feudalismo. Los orígenes: las segundas invasiones (Punto - 2 del tema)

Ejercicio nº 10

a) Define **El feudalismo** (Punto 4 del tema).

b) Define **estamento**:

c) Explica cómo era y como estaba organizada la sociedad feudal: (**Una Sociedad Estamental**) - **Punto 5 del libro**

Ejercicio nº 11- El Feudo (Punto 7 del tema)

→ Nombra las partes del feudo y explica las características o aspectos más importantes

Ejercicio nº 12

Explica detalladamente:

a) EL IMPERIO CAROLINGIO (Punto 1 del libro).

b) El gobierno del imperio Carolingio

Ejercicio Nº 13

Explica detalladamente:

→ La disolución del imperio carolingio.

Ejercicio nº 14

Desarrolla el esquema trabajado en clase sobre la organización de la iglesia.

Ejercicio nº 15.-

Explica las características generales del arte románico (**Punto - 1 del tema**)

Ejercicio nº 16

Desarrolla el siguiente punto:

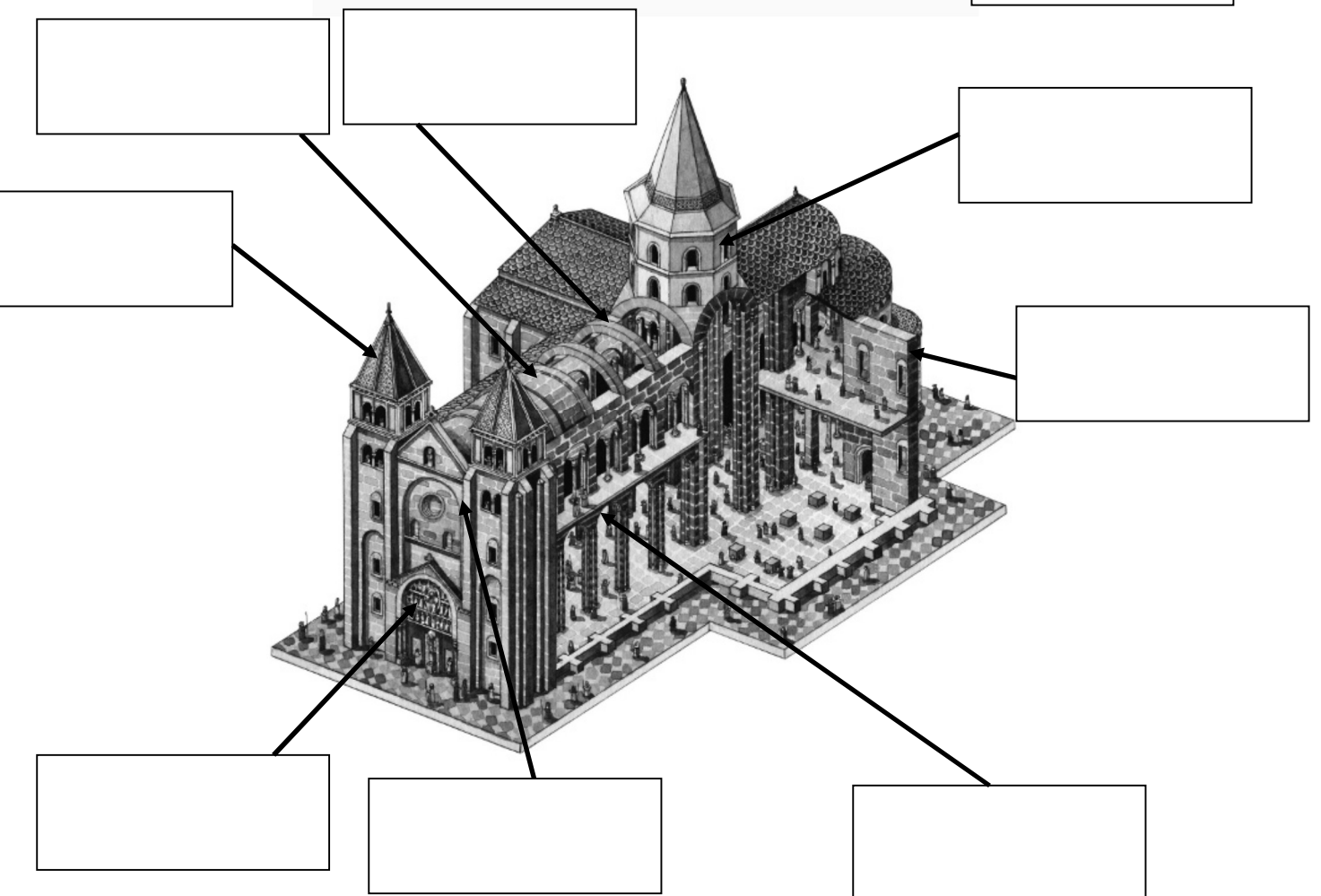
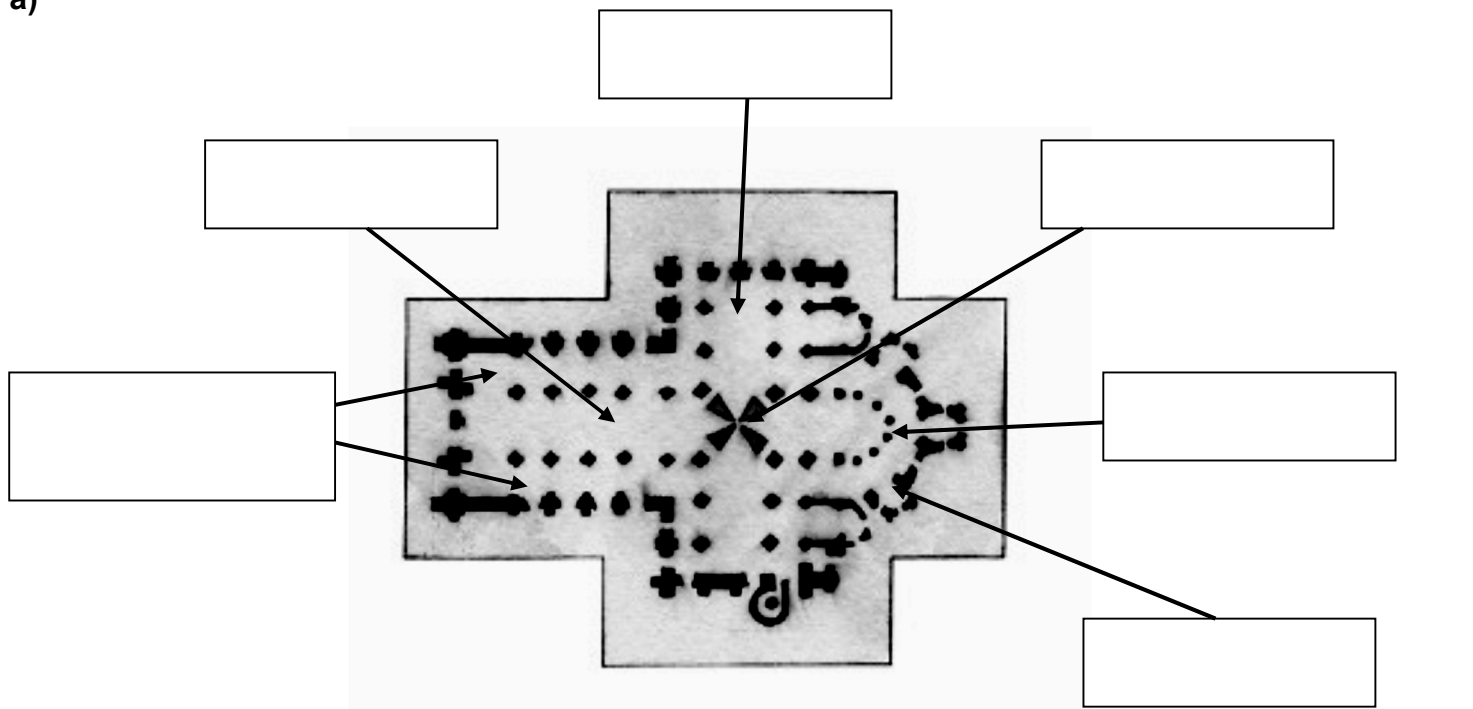
a) **La arquitectura románica (Punto 2 del libro)**

b) Explica y describe las partes que componen **La portada románica:**

Ejercicio nº 17- (Punto 7 del tema)

→ Nombra las partes que aparecen en los espacios en blanco de las figuras **a** y **b**.

a)



b)

Ejercicio nº 18 (Punto 4 del libro).

Explica detalladamente las características de **la pintura románica**:

Ejercicio Nº 19

Explica detalladamente las características de **la escultura románica**: (Punto 3 del libro).

Ejercicio nº 20 (Punto 1 - del tema 4)

Desarrolla el siguiente punto: **La prosperidad económica del siglo XIII.**
La mejora de la agricultura y el aumento de la población.

Ejercicio nº 21.- (Punto 2 del tema 4)

Explica el siguiente punto: **El renacer de las ciudades.**

a) Causas del Crecimiento:

b) El gobierno de las ciudades:

Ejercicio nº 22.- (Punto 5 del tema 4).

Explica detalladamente el siguiente punto:

a) **El reforzamiento de las monarquías.**

b) **La creación de los Parlamentos.**

Ejercicio nº 23

Explica detalladamente "La crisis del siglo XIV" : (Punto 6 del tema 4).

a) La crisis agraria y sus consecuencias.

b) La guerras y las revueltas populares.

HASTA AQUÍ ENERO

A PARTIR DE AQUÍ MAYO



Ejercicio Nº 24 (Punto 1 del tema 5).

Explica detalladamente el siguiente punto: **La época del Gótico. Una cultura urbana.**

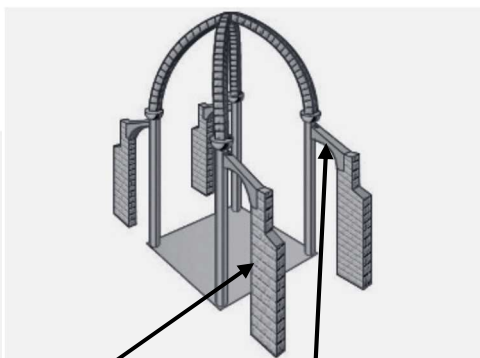
Ejercicio Nº 25 (Punto 3 del tema 5).

A partir de las siguientes imágenes, desarrolla los siguientes puntos:

a) **Completa los recuadros en blanco de esta imagen y completa los espacios en blanco de las imágenes de abajo.**



a)



b)

c)



d)

b) Explica las principales características de la arquitectura gótica.

Ejercicio nº 26 (Punto 4 - del tema 5)

Desarrolla el siguiente punto: **La escultura gótica**

Ejercicio nº 27.- (Punto 5 del tema 5)

Explica el siguiente punto: **La pintura gótica.**

Ejercicio nº 28

Define o explica los siguientes términos:

a) **Hayib** :

b) **Visir**:

c) **Los valíes**:

d) **Razias**:

e) **Aceifas**:

Ejercicio nº 29

Explica el siguiente punto **Una sociedad desigual** : (Punto 3 del tema 6).

Ejercicio Nº 30.- (Punto 6 del tema 6).

- a) Explica las principales características de la arquitectura de Al-Ándalus.
- b) ¿Cómo era su decoración?
- c) Pon algún ejemplo de cada una de las etapas de la arquitectura de Al-Andalus

Ejercicio Nº 31

Desarrolla el Esquema de **LA ORGANIZACIÓN POLÍTICA DE AL-ÁNDALUS.**
¿Cuáles fueron las etapas de Al-Ándalus?

Ejercicio nº 32 (Punto 2 - del tema 7)

Desarrolla el siguiente punto: **El reino astur-leonés.**

Ejercicio nº 33 (Punto 3 del tema 7)

Explica el siguiente punto: **El reino de Castilla.**

Ejercicio nº 34-

Define o explica los siguientes términos:

a) **Parias:**

c) **Mesta:**

d) **Consulado:**

e) **Repoblación:**

Ejercicio nº 35

Explica el siguiente punto **La creación del reino de Navarra : (Punto 4 del tema 7).**

Ejercicio Nº 36.- (Punto 9 del tema 7).

Comenta el siguiente apartado del punto 9: **El gobierno y las instituciones en la Corona de Castilla**

Ejercicio Nº 37

Desarrolla los siguientes puntos:

a) La crisis del final de la Edad Media en la corona de Castilla.

b) La dinastía de los Trastámara.

Ejercicio Nº 38

Desarrolla los siguientes puntos:

a) El arte asturiano.

b) El arte mudéjar.

Ejercicio nº 39 (Punto 4 - del tema 8)

Explica brevemente "El descubrimiento de América" indicando los personajes, acontecimientos y fechas más importantes.

Ejercicio nº 40 (Punto 5 del tema 8)

Comenta el siguiente punto: **El reparto del mundo** (el Tratado de Tordesillas) .

Ejercicio nº 41

Define o explica los siguientes términos:

a) **Corregidor:**

c) **Santa Hermandad:**

d) Chancillería:

e) Tribunal de la Inquisición:

f) Monarquía autoritaria:

Ejercicio nº 42

Ordena Cronológicamente los siguientes descubrimientos y exploraciones.

- a) Descubrimiento de América.
- b) Se dobla el cabo de Buena Esperanza.
- c) Primera vuelta al mundo.
- d) Llega a la India bordeando África.
- e) Descubrimiento del estrecho de Magallanes.

Indica el personaje protagonista de cada acontecimiento.

Ejercicio Nº 43

Nombra los tres pueblos **Precolombinos** e indica que territorios ocuparon en el continente americano:

Ejercicio Nº 44

Desarrolla los siguientes puntos:

a) El crecimiento demográfico. (Punto 6 del tema 8)

b) La transformación social. La sociedad.

Ejercicio Nº 45 (Punto 7 del tema 8)

Comenta el siguiente punto: **"El nacimiento del Estado moderno"**. Las monarquías autoritarias. **CARACTERÍSTICAS.**

Ejercicio Nº 46 (Punto 8 del tema 8)

Comenta el siguiente punto: **LOS REYES CATÓLICOS. La unión dinástica**