

**Fichas de trabajo.
Verano - 2017
3º ESO
Convocatoria
extraordinaria de
septiembre.
Curso 2016-2017**

NOTA: Deben presentarse todas las fichas trabajadas. Se valorará que las fichas estén correctas y completas así como la limpieza y buena presentación.

Las fichas se entregarán al profesor al comenzar el examen de septiembre.

Nombre:

Curso:

GEOGRAFÍA 3ºESO.

Fichas de trabajo. Verano - Septiembre 2017 -3º ESO

Ejercicio nº 1.-

Responde y define los siguientes conceptos:

a) ¿Qué y cómo estudia la geografía a la población?

b) Población:

c) Densidad de población:

d) Movimientos naturales de la población

Ejercicio nº 2.-

Explica los factores o causas que influyen en la natalidad:

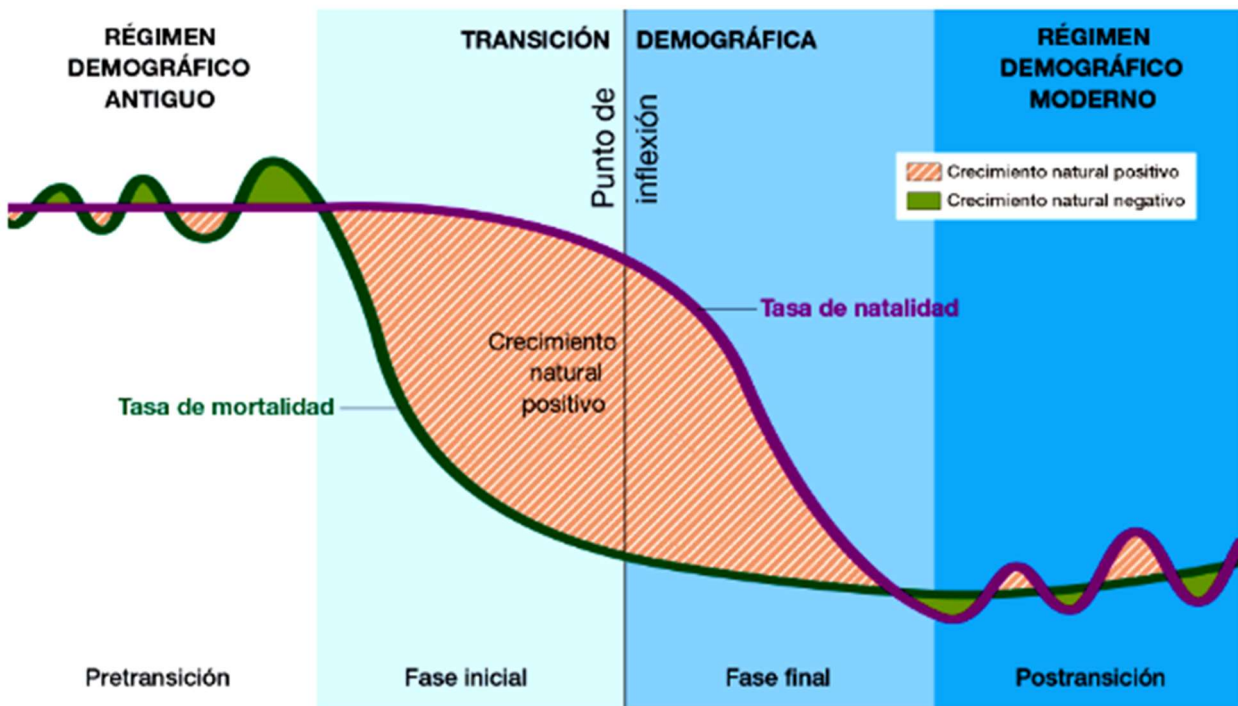
Ejercicio nº 3.-

En un país de 33 100 000 habitantes, nacieron 662 000 personas y murieron 297 000.

- a) Calcula la tasa de natalidad.
- b) Calcula la tasa de mortalidad.
- c) Calcula el crecimiento natural o vegetativo y la **TASA DE CRECIMIENTO NATURAL. (PON LAS FÓRMULAS CORRESPONDIENTES)**
- d) ¿Es una zona desarrollada o subdesarrollada? Razona tu respuesta.

Ejercicio nº 4.-

Observa la imagen y explica cada uno de los distintos regímenes o fases de la transición demográfica. Señala en qué momento se desarrolló cada etapa en los distintos lugares del mundo.



Ejercicio nº 5.-

¿Cómo podemos clasificar las migraciones? Pon algún ejemplo:

Ejercicio nº 6.-

Señala si las siguientes afirmaciones son verdaderas o falsas; *corrige las falsas*:

- a) La población de la Tierra era de 6 238 millones de personas en 2014.
- b) Uno de los focos de concentración de población principal se localiza en el sur y *sureste de África*.
- c) Uno de los focos de despoblamiento coincide con los polos y las zonas frías.
- d) Las montañas favorecen el asentamiento de la población.

Ejercicio nº 7.-

Señala si las siguientes afirmaciones son verdaderas o falsas; *corrige las falsas*:

- a) El balance entre la natalidad y la mortalidad es el crecimiento natural o vegetativo.
- b) La emigración, aumenta el número de habitantes de un lugar; y la inmigración, los disminuye.
- c) La mortalidad es el número de defunciones ocurridas en una población en un trimestre.
- d) La natalidad es el número de nacimientos ocurridos en una población en un trimestre.

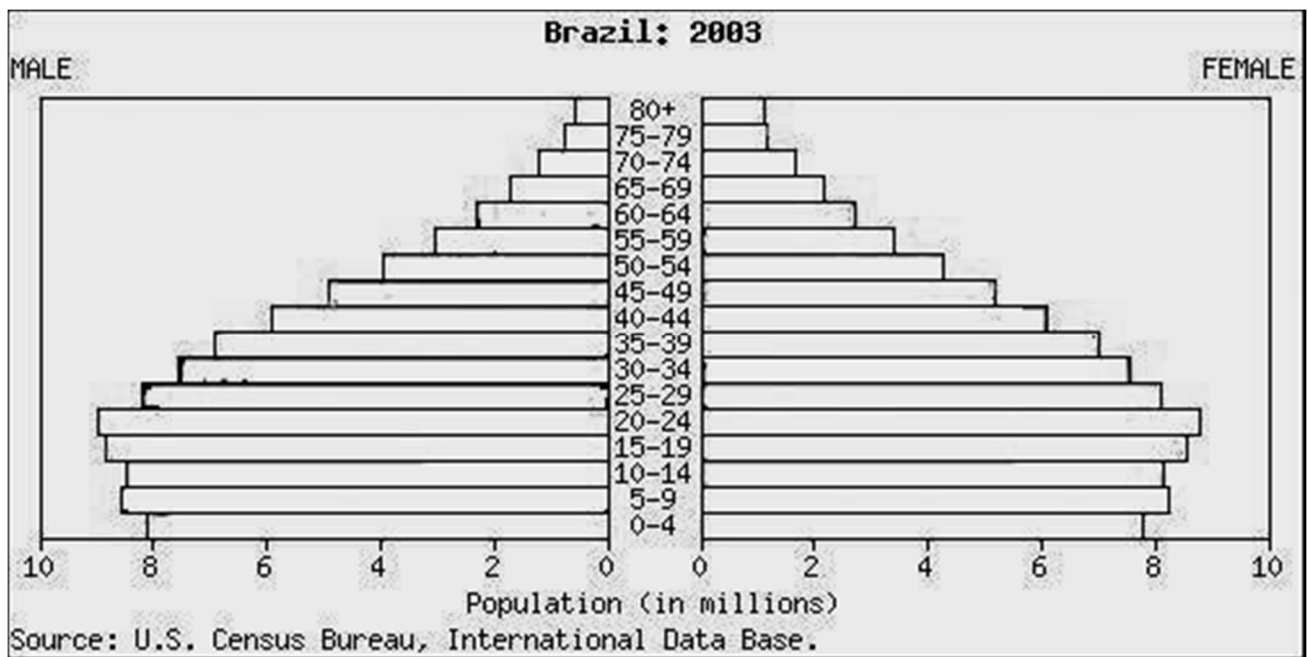
Ejercicio nº 8.-

Observa la pirámide de población y comenta los siguientes aspectos:

- Su forma. **Tipo de pirámide**
- Las características que se deducen de la base, la cúspide y el perfil:
 - **Natalidad.**
 - **Mortalidad.**
 - **Crecimiento vegetativo.**
 - **Esperanza de vida.**
- Las características demográficas de hombres y de mujeres.
- ¿En qué etapa o régimen demográfico se encuentra la población de este país?
- ¿A qué tipo de país crees que pertenece? Razona la respuesta.

HOMBRES

MUJERES



Ejercicio nº 9.-

Completa la tabla siguiente:

CONSECUENCIAS	POSITIVAS	NEGATIVAS
Países de origen		
Países de destino		

Ejercicio nº 10.-

Explica cuáles son los objetivos de la Unión Europea.

Ejercicio nº 11.-

Nombra las instituciones de la Unión Europea y explica sus principales funciones o características (Cuando corresponda indica la sede de la institución y el presidente o máxima autoridad)

Ejercicio nº 12.-

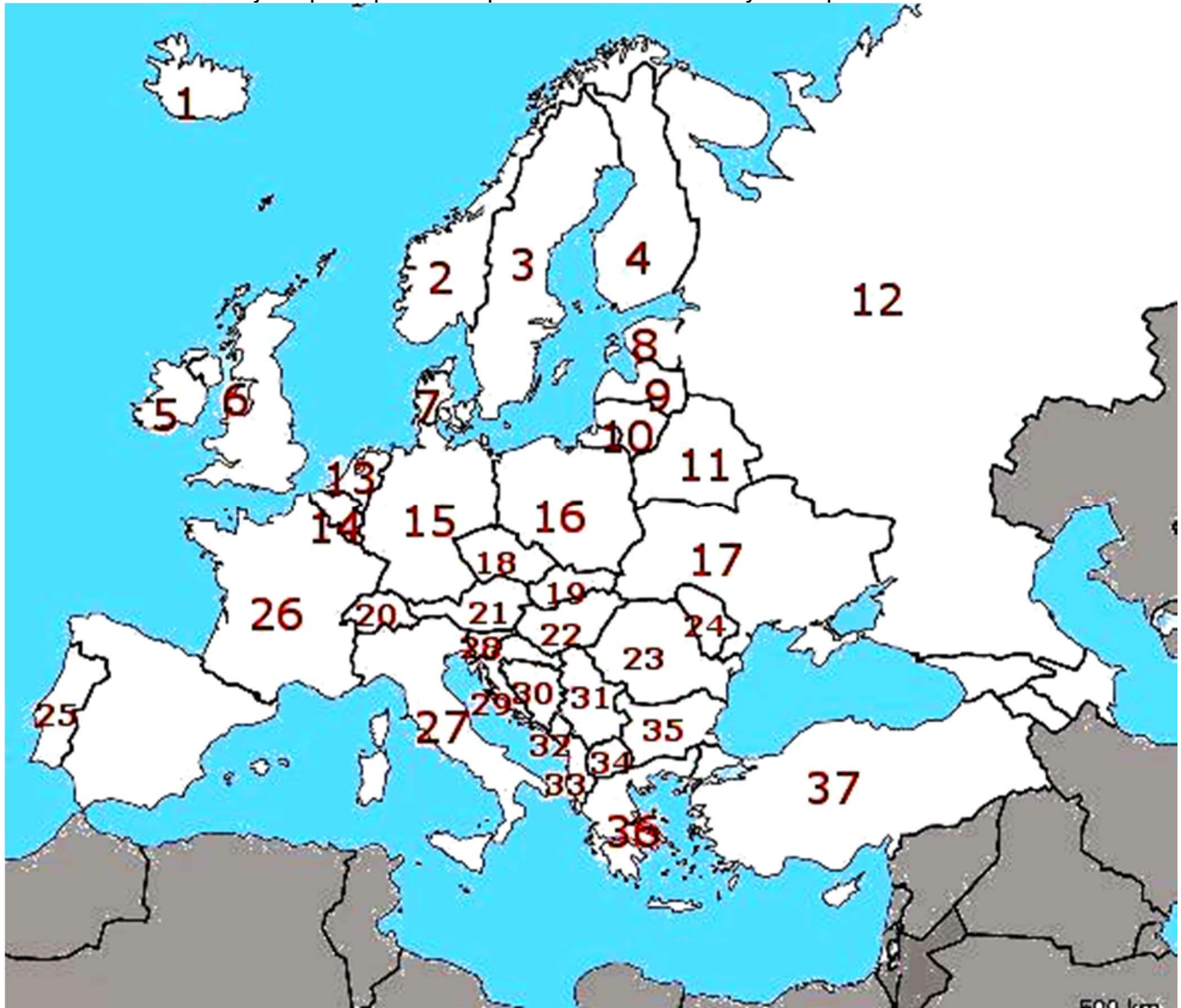
Indica cómo se divide administrativamente el territorio español e indica cuándo se estableció esa división:
LA ADMINISTRACIÓN LOCAL. LA ADMINISTRACIÓN AUTONÓMICA.

Ejercicio nº 13.-

Nombra los tratados más importantes de la Unión Europea y el año en que se firmaron.

Ejercicio nº 14.-

Sitúa en la tabla de abajo el país que corresponda a cada número y su capital.



PAÍS	CAPITAL
3.	
4.	
5.	
7.	
10.	
13.	
14.	
15.	
16.	
18.	
19.	
21.	
22.	
23.	
35.	

Ejercicio nº 15.-

Observa el mapa de España y partir de los números que aparecen en el indica en el lugar correspondiente del recuadro los NOMBRES DE LA COMUNIDAD AUTÓNOMA Y SU CAPITAL CORRESPONDIENTE.



COMUNIDAD AUTÓNOMA	CAPITAL
1	
2	
3	
4	
5	
6	
7	
8	
9	
10	
11	
12	

13	
14	
15	
16	
17	

Ejercicio nº 16.-

SITÚA EN EL MAPA LAS SIGUIENTES PROVINCIAS:

PROVINCIA
1. CIUDAD REAL.
2. ALAVA
3. LUGO
4. JAEN
5. TERUEL
6. CUENCA
7. PALENCIA
8. ALBACETE
9. HUESCA
10. CASTELLÓN
11. LLEIDA-LÉRIDA
12. ORENSE
13. HUELVA
14. MURCIA
15. ALMERÍA



Ejercicio nº 17.-

Completa los espacios en blanco del siguiente cuadro:

ADMINISTRACIÓN.	ELECCIONES.	PERIODO	Institución que se elige	Cargo-Representante
Estatal-Nacional (España)				
Autonómica (Comunidad Autónoma) Ej.: Castilla y León, Galicia				
Local : <i>Municipal</i> (Sotillo) } <i>Provincial</i> (Ávila) } →				

Ejercicio nº 18.-

Explica los siguientes conceptos:

a) Población activa:

b) Población inactiva:

c) La población ocupada:

Ejercicio nº 19.-

La población de Castilla y León. **Efectivos, distribución y estructura.**

Ejercicio nº 20.-

Define los siguientes términos:

a) Ciudad:

b) Tasa de urbanización:

a) Red urbana:

b) Ciudades globales:

Ejercicio nº 21.-

Define y explica las siguientes aglomeraciones urbanas en esta tabla:

AGLOMERACIONES URBANAS	CARACTERÍSTICAS	EJEMPLOS
Áreas metropolitanas		
Conurbaciones		
Regiones urbanas		
Megalópolis		

Ejercicio nº 22.-

Explica las características de los siguientes planos. Indica algún ejemplo de cada uno:

a) Irregular:

b) En cuadrícula:

c) Circular o radiocéntrico:

d) Complejo:

Ejercicio nº 23.-

Señala si las siguientes afirmaciones son verdaderas o falsas; corrige las falsas:

- a) Las regiones urbanas surgen por la sucesión de áreas metropolitanas, ciudades y conurbaciones, de forma que la urbanización del espacio alcanza escala suprarregional.
- b) Las áreas metropolitanas se originan por la unión de varias ciudades de importancia similar.
- c) Las conurbaciones se crean por el crecimiento de varias ciudades dispersas, pero relativamente próximas, de forma que la urbanización del espacio alcanza escala regional.
- d) Las áreas metropolitanas surgen por el crecimiento de una ciudad principal o central, que termina por unirse con otras poblaciones vecinas.

Ejercicio nº 24.-

Señala si las siguientes afirmaciones son verdaderas o falsas; corrige las falsas:

- a) Las estructuras urbanas suelen ser bastante homogéneas a lo largo de la historia.
- b) La periferia es la zona de transición entre el campo y la ciudad.
- c) La franja periurbana se sitúa contigua al centro, resultante del crecimiento urbano entre 1950 y 1970.
- d) El centro es el lugar donde se encuentran los barrios históricos y el centro comercial y de negocios.
- e) La morfología urbana es la división de la ciudad en áreas con morfología y funciones específicas.

Ejercicio n° 25.-

Completa la siguiente tabla que compara las ciudades norteamericanas, latinoamericanas y africanas:

CIUDAD	NORTEAMERICANA	LATINOAMERICANA	AFRICANA
Característica principal			
Centro			
Periferia			
Área rururbana			

Ejercicio nº 26.-

Define los siguientes conceptos:

a) Poblamiento concentrado:

b) Poblamiento disperso:

c) Poblamiento urbano:

Ejercicio nº 27.-

¿Cómo fue el proceso de urbanización en LA EDAD MODERNA EN EUROPA?

Ejercicio nº 28.-

Señala si las siguientes afirmaciones son VERDADERAS O FALSAS:

- a) París y Londres sobrepasan los 20 millones de habitantes pero ocupan los puestos 25 y 28 del *ranking* mundial.
- b) Las ciudades europeas son numerosas y su distribución en el territorio se caracteriza por la localización de la mayor aglomeración urbana, París, en el centro peninsular y de ejes urbanos periféricos.
- c) Europa es el segundo continente más urbanizado después de América.
- d) Las ciudades españolas son numerosas y se distribuyen de manera uniforme, aunque tienden a agruparse en ejes. El de mayor densidad urbana se extiende entre el sur de Francia y el norte de Grecia.

Ejercicio nº 29.-

Relaciona estas ciudades con la modalidad que les corresponda:

a) Áreas metropolitanas	1. Rin-Ruhr
	2. París
	3. Manchester-Liverpool
	4. Londres
b) Conurbaciones	5. Valencia
	6. Málaga-Marbella
	7. Área central de Asturias

Ejercicio nº 30.-

Explica qué actividades se incluyen en cada sector.

Ejercicio nº 31.-

Responde a las siguientes cuestiones

a) ¿Qué es la actividad económica?

b) Define lo que son las familias y el Estado, desde un punto de vista económico, y explica su papel en el circuito económico:

Ejercicio nº 32.-

Define los siguientes términos:

a) Capital:

b) Tecnología:

Ejercicio nº 33.-

Señala si las siguientes afirmaciones son verdaderas o falsas; cuando sean falsas corrígelas:

- a) Las sociedades anónimas (S. A.) son aquellas en las que el capital social es aportado por un limitado número de socios.
- b) Se considera que una empresa es grande si emplea a más de 200 trabajadores.
- c) Las familias son unidades básicas de consumo y de producción.
- d) El objetivo del Estado, desde un punto de vista económico, es la obtención de beneficios económicos.
- e) Según la titularidad del capital de las empresas, podemos distinguir entre empresas públicas, privadas y mixtas.

Ejercicio nº 34.-

Completa la tabla siguiente sobre la clasificación de las empresas:

CRITERIOS DE CLASIFICACIÓN	TIPOS DE EMPRESAS		

Ejercicio nº 35.-

Define o explica los siguientes conceptos:

a) La tasa de actividad:

b) ¿Qué es la tasa de paro?

c) Explica qué son los sistemas económicos:

Ejercicio nº 36.-

Explica los siguientes conceptos y Define los siguientes términos:

a) ¿Qué son las multinacionales?

a) Banco Mundial.

c) Fondo Monetario Internacional.

Ejercicio nº 37.-

Explica qué elementos componen el mercado laboral y cuál es su situación en la actualidad:

Ejercicio nº 38.-

Explica las principales características de:

Países de la Tríada.

Características:

Potencias emergentes.

Características:

Ejercicio nº 39.-

Explica las características de la ideología neoliberal o keynesiana:

Ejercicio nº 40.-

Explica las características y localización de los sistemas económicos:

- CAPITALISTA:

- MIXTO:

Ejercicio nº 41.-

Relaciona cada organismo internacional con las funciones que tiene:

ORGANISMO INTERNACIONAL	CARACTERÍSTICAS
<ol style="list-style-type: none">1. G-202. Banco Mundial3. Fondo Monetario Internacional4. Organización Mundial del Comercio	<ol style="list-style-type: none">a) Se ocupa de las normas que rigen el comercio entre países.b) Proporciona ayuda técnica y financiera a los países en vías de desarrollo.c) Promueve la libertad económica.d) Pretende terminar con la pobreza extrema.e) Mantiene la estabilidad económica mundial.f) Foro de cooperación y consulta económica.

Ejercicio nº 42.-

Define los siguientes términos:

a) *Trust*:

b) *Holding*:

c) ¿Qué quiere decir BRICS? ¿Qué países incluye?

Ejercicio nº 43.-

Señala si las siguientes afirmaciones son verdaderas o falsas; cuando sean falsas, corrígelas:

a) Estados Unidos, Rusia, la Unión Europea y Japón son conocidos como los países de la Tríada.

b) Las potencias económicas emergentes son aquellas cuyas economías crecen al mismo ritmo que los países de la Tríada.

c) Las potencias económicas emergentes basan su producción, entre otros aspectos, en una rápida industrialización favorecida por los bajos costes salariales de su mano de obra.

d) Las áreas económicas atrasadas se localizan en algunos países de América Latina, Asia y, sobre todo, del África mediterránea.

Ejercicio nº 44.-

Explica los siguientes conceptos y Define los siguientes términos:

a) **Espacio agrario:**

b) **Espacio rural:**

c) **Caladeros:**

d) **Explotación indirecta:**

f) **Poblamiento:**

Ejercicio nº 45.-)

Nombra y explica brevemente cuáles son los factores físicos de la actividad agraria:

Ejercicio nº 46.-

Señala si las siguientes afirmaciones son verdaderas o falsas; cuando sean falsas, corrígelas:

- a) La agricultura ecológica combina el uso de técnicas avanzadas y de abundante mano de obra asalariada.
- b) En la agricultura de plantación, el paisaje agrario se organiza en parcelas de tamaño y forma regular, pertenecientes a agricultores muy preparados o a grandes empresas multinacionales.
- c) La agricultura productivista se especializa en los productos más adecuados al medio físico o en los más rentables para la venta en el mercado.
- d) La agricultura de los *belts* se localiza en las áreas costeras de clima tropical húmedo de América Central y América del Sur; en el sureste de Asia y el golfo de Guinea, en África.


Ejercicio nº 47.-

Explica y desarrolla el siguiente punto:

- **Las ganaderías productivista y ecológica.**

Ejercicio nº 48.-

Observa la imagen siguiente y responde:



a) Define qué es el suelo y señala en la imagen las distintas partes que lo componen.

b) Enumera y explica qué características del suelo son importantes para las actividades agrarias.

Ejercicio nº 49.-

Desarrolla el siguiente punto "El espacio trabajado" (La clasificación de las parcelas en función de los distintos criterios.)

Ejercicio nº 50.-

Señala si las siguientes afirmaciones son verdaderas o falsas.

- a) Los principales países productores de carbón son Estados Unidos, Francia y Japón.
- b) La energía hidroeléctrica se obtiene a partir del agua embalsada por una presa.
- c) El gas natural es un combustible formado por la descomposición de restos vegetales enterrados en el subsuelo durante millones de años.
- d) La producción energética mundial está encabezada por el gas natural y la energía hidroeléctrica.
- e) Las energías renovables son las más usadas actualmente, porque ya han alcanzado un elevado desarrollo tecnológico.

Ejercicio nº 51.-

Explica qué son **las fuentes de energía alternativas**:

Ejercicio nº 52.-

Señala si las siguientes fuentes de energía son **renovables** o **no renovables** y si son **tradicionales** o **alternativas**.

Carbón, biomasa, petróleo, energía eólica, gas natural, energía solar, energía geotérmica, energía nuclear de fisión, energía mareomotriz, energía nuclear de fusión, energía hidroeléctrica.

Ejercicio nº 53.-

Relaciona las siguientes características con los distintos tipos de industrias existentes en la actualidad.

TIPO DE INDUSTRIA	CARACTERÍSTICAS
1. Industrias tradicionales.	a) Se diseminan por el área periurbana o rural.
2. Industrias innovadoras y de alta tecnología.	b) Se localizan en polígonos industriales clásicos.
3. Industrias de los países emergentes o nuevos países industrializados.	c) Se instalan en parques tecnológicos o en tecnópolis.
	d) Se encuentran en crisis.
	e) Acogen industrias muy contaminantes.
	f) Deslocalización.
	g) Trabajadores cualificados, infraestructuras y servicios avanzados.
	h) Localizadas cerca de los puertos.

Ejercicio nº 54.-

Señala si las siguientes afirmaciones son verdaderas o falsas.

- a) Hasta mediados del siglo XVII, el trabajo industrial era realizado a mano por artesanos.
- b) La localización de los talleres artesanales estaba concentrada, por lo que podemos hablar de un paisaje industrial diferenciado.
- c) En la primera revolución industrial, las industrias se localizaron cerca de la vivienda del empresario.
- d) Con la revolución industrial, la fabricación se concentró en grandes fábricas o factorías, donde numerosos obreros realizaban todo el producto.
- e) La industria moderna surgió en Gran Bretaña tras la Primera Revolución Industrial (1770-1850), y se prolongó en el tiempo con la Segunda Revolución Industrial (1850-1950).

Ejercicio nº 55.-

Señala si las siguientes afirmaciones son verdaderas o falsas.

- a) El consumo de materias primas se centra en unos pocos países, conocidos como CARBS 6 (Canadá, Australia, Rusia, Brasil y Sudáfrica).
- b) La producción de materias primas se concentra en unos pocos países: Europa occidental, Japón, Estados Unidos, y países emergentes, como China y la India.
- c) Las materias primas constituyen en la actualidad una parte muy importante del comercio mundial.
- d) Las materias primas vegetales se extraen de la corteza terrestre, donde se concentran en zonas llamadas yacimientos.

Ejercicio nº 56.-

Señala si las siguientes afirmaciones son verdaderas o falsas.

- a) La obtención y el uso de la energía ya no causan tantos problemas medioambientales.
- b) El intento de control de estos recursos ha generado conflictos internacionales, como la guerra del Golfo (1990-1991).
- c) Las necesidades energéticas mundiales se cubren, en su mayoría, con energías renovables.
- d) El incremento de la producción y del consumo energético se ha limitado, debido al descenso de la actividad económica.

Ejercicio nº 57.-

Señala si las siguientes afirmaciones son verdaderas o falsas.

- a) En los nuevos países industrializados se han creado enormes concentraciones industriales situadas preferentemente junto a los lugares en los que se encuentran las fuentes de energía.
- b) Algunas industrias tradicionales que abandonan el centro urbano se localizan en tecnópolis.
- c) Las industrias innovadoras y de alta tecnología se instalan en nuevos polígonos industriales.
- d) Los paisajes industriales heredados se encuentran en crisis desde la década de 1970, porque sus industrias han quedado anticuadas.